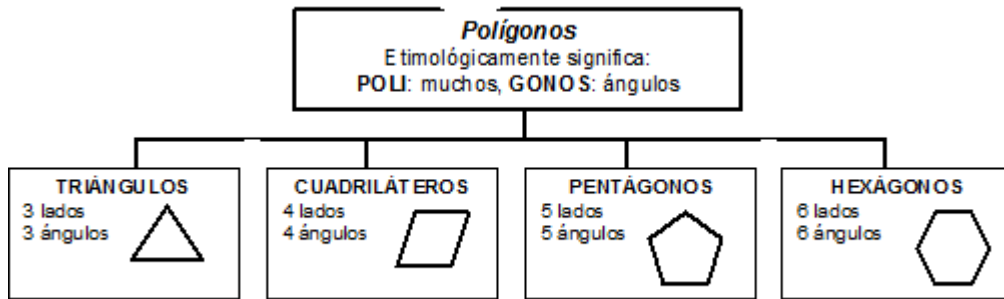


## ACTIVIDAD DE PLAN DE APOYO ABRIL

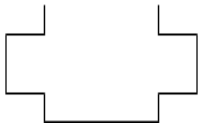
Las respuestas a las situaciones que se proponen para el análisis deben ser entregadas de forma individual en hojas, además de ser sustentadas, en clase se acordará la fecha de sustentación

1. Recuerda que hay una clasificación de acuerdo al número de lados, consulta y completa la información:
  - 7 lados es un \_\_\_\_\_
  - 8 lados es \_\_\_\_\_.
  - 9 lados es un \_\_\_\_\_
  - 10 lados es un \_\_\_\_\_
2. Para cada uno de los siguientes polígonos, indica el número de vértices y dibuja las diagonales.



3. Responde: ¿Los polígonos de la figura anterior son cóncavos o convexos? Justifica tu respuesta.
4. Nombra los vértices de cada polígono, traza sus diagonales y determina cuáles son convexos y cuáles cóncavos

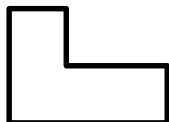
A.



B.



C.



### Actividad # 3

Elabora un dibujo en el que emplees los diferentes tipos de polígonos vistos durante el periodo.